

## 2023 年高考甲卷文科

一、选择题：本题共 12 小题，每小题 5 分，共 60 分.在每小题给出的四个选项中，只有一项是符合题目要求的.

1. 设全集  $U=\{1,2,3,4,5\}$ , 集合  $M=\{1,4\}$ ,  $N=\{2,5\}$ , 则  $N \cup C_U M =$

- A.  $\{2,3,5\}$       B.  $\{1,3,4\}$       C.  $\{1,2,4,5\}$       D.  $\{2,3,4,5\}$

2.  $\frac{5(1+i^3)}{(2+i)(2-i)} =$

- A.  $-1$       B.  $1$       C.  $1-i$       D.  $1+i$

3. 已知向量  $\mathbf{a}=(3,1)$ ,  $\mathbf{b}=(2,2)$ , 则  $\cos\langle \mathbf{a} + \mathbf{b}, \mathbf{a} - \mathbf{b} \rangle =$

- A.  $\frac{1}{17}$       B.  $\frac{\sqrt{17}}{17}$       C.  $\frac{\sqrt{5}}{5}$       D.  $\frac{2\sqrt{5}}{5}$

4. 某校文艺部有 4 名学生，其中高一、高二年级各 2 名. 从这 4 名学生中随机选 2 名组织校文艺汇演，则这 2 名学生来自不同年级的概率为

- A.  $\frac{1}{6}$       B.  $\frac{1}{3}$       C.  $\frac{1}{2}$       D.  $\frac{2}{3}$

5. 记  $S_n$  为等差数列  $\{a_n\}$  的前  $n$  项和. 若  $a_2 + a_6 = 10$ ,  $a_4 a_8 = 45$ , 则  $S_5 =$

- A. 25      B. 22      C. 20      D. 15

6. 执行右边的程序框图，

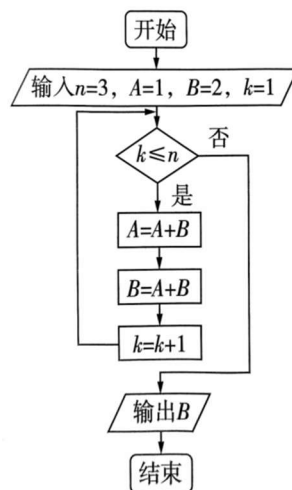
则输出的  $B =$

A. 21

B. 34

C. 55

D. 89



7. 设  $F_1, F_2$  为椭圆  $C: \frac{x^2}{5} + y^2 = 1$  的两个焦点, 点  $P$  在  $C$  上, 若  $\overrightarrow{PF_1} \cdot \overrightarrow{PF_2} =$

0, 则  $|\overrightarrow{PF_1}| \cdot |\overrightarrow{PF_2}| =$

A. 1

B. 2

C. 4

D. 5



8. 曲线  $y = \frac{e^x}{x+1}$  在点  $(1, \frac{e}{2})$  处的切线方程为

A.  $y = \frac{e}{4}x$

B.  $y = \frac{e}{2}x$

C.  $y = \frac{e}{4}x + \frac{e}{4}$

D.  $y = \frac{e}{2}x + \frac{3e}{4}$

9. 已知双曲线  $C: \frac{x^2}{a^2} - \frac{y^2}{b^2} = 1 (a > 0, b > 0)$  的离心率为  $\sqrt{5}$ ,  $C$  的一条渐近线与圆  $((x-2)^2 + (y-3)^2 = 1)$  于  $A, B$  两点, 则  $|AB| =$

A.  $\frac{\sqrt{5}}{5}$

B.  $\frac{2\sqrt{5}}{5}$

C.  $\frac{3\sqrt{5}}{5}$

D.  $\frac{4\sqrt{5}}{5}$

10. 在三棱锥  $P-ABC$  中,  $\triangle ABC$  是边长为 2 的等边三角形,  $PA=PB=2$ ,  $PC=\sqrt{6}$ , 则该棱锥的体积为

A. 1

B.  $\sqrt{3}$

C. 2

D. 3

11. 已知函数  $f(x) = e^{-(x-1)^2}$ . 记  $a = f\left(\frac{\sqrt{2}}{2}\right)$ ,  $b = f\left(\frac{\sqrt{3}}{2}\right)$ ,  $c = f\left(\frac{\sqrt{6}}{2}\right)$ , 则

A.  $b > c > a$

B.  $b > a > c$

C.  $c > b > a$

D.  $c > a > b$

12. 函数  $y = f(x)$  的图象由函数  $y = \cos\left(2x + \frac{\pi}{6}\right)$  的图象向左平移  $\frac{\pi}{6}$  个单位长度得到, 则  $y = f(x)$  的图象与直线  $y = \frac{1}{2}x - \frac{1}{2}$  的交点个数为

A. 1

B. 2

C. 3

D. 4


二、填空题: 本题共 4 小题, 每小题 5 分, 共 20 分.

13. 记  $S_n$  为等比数列  $\{a_n\}$  的前  $n$  项和. 若  $8S_6 = 7S_3$ , 则  $\{a_n\}$  的公比为\_\_\_\_\_

14. 若  $f(x) = (x-1)^2 + ax + \sin\left(x + \frac{\pi}{2}\right)$  为偶函数, 则  $a =$ \_\_\_\_\_.

15. 若  $x, y$  满足约束条件  $\begin{cases} 3x - 2y \leq 3, \\ -2x + 3y \leq 3, \\ x + y \geq 1, \end{cases}$  则  $z = 3x + 2y$  的最大值为\_\_\_\_\_

16. 在正方体  $ABCD-A_1B_1C_1D_1$  中,  $AB=4$ ,  $O$  为  $AC_1$  的中点, 若该正方体的棱与球  $O$  的球面有公共点, 则球  $O$  的半径的取值范围是\_\_\_\_\_.



三、解答题：共 70 分.解答应写出文字说明、证明过程或演算步骤.  
第 17~21 题为必考题，每个试题考生都必须作答.第 22、23 题为选  
考题，考生根据要求作答.

(一)必考题:共 60 分.

17.(12 分)记 $\triangle ABC$ 的内角  $A, B, C$  的对边分别为  $a, b, c$ , 已知  $\frac{b^2+c^2-a^2}{\cos A} = 2$

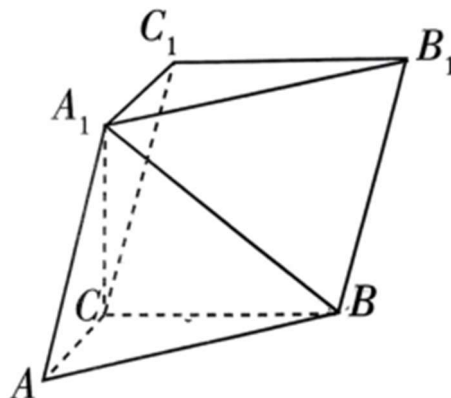
(1)求  $bc$  ;

(2)若  $\frac{a\cos B - b\cos A}{a\cos B + b\cos A} - \frac{b}{c} = 1$ , 求  $\triangle ABC$  面积.

18.(12 分)如图,在三棱柱  $ABC-A_1B_1C_1$  中,  $A_1C \perp$  平面  $ABC$ ,  $\angle ACB = 90^\circ$ .

(1)证明:平面  $ACC_1A_1 \perp$  平面  $BB_1C_1C$ ;

(2)设  $AB = A_1B$ ,  $AA_1 = 2$ , 求四棱锥  $A_1-BB_1C_1C$  的高.



19.(12 分)一项试验旨在研究臭氧效应, 试验方案如下: 选 40 只小白鼠, 随机地将其中 20 只分配到试验组, 另外 20 只分配到对照组, 试验组的小白鼠饲养在高浓度臭氧环境, 对照组的小白鼠饲养在正常环境, 一段时间后统计每只小白鼠体重的增加量(单位: g). 试验结果如下:

对照组的小白鼠体重的增加量从小到大排序为

15.2 18.8 20.2 21.3 22.5 23.2 25.8 26.5 27.5 30.1  
32.6 34.3 34.8 35.6 35.6 35.8 36.2 37.3 40.5 43.2

试验组的小白鼠体重的增加量从小到大排序为

7.8 9.2 11.4 12.4 13.2 15.5 16.5 18.0 18.8 19.2  
19.8 20.2 21.6 22.8 23.6 23.9 25.1 28.2 32.3 36.5

(1)计算试验组的样本平均数;

(2)(i)求 40 只小白鼠体重的增加量的中位数 $m$ , 再分别统计两样本中小于 $m$ 与不小于 $m$ 的数据的个数, 完成如下列联表:

	$<m$	$\geq m$
对照组		
试验组		

(ii)根据(i)中的列联表, 能否有 95%的把握认为小白鼠在高浓度臭氧环境中与在正常环境中体重的增加量有差异?

$$\text{附: } K^2 = \frac{n(ad-bc)^2}{(a+b)(c+d)(a+c)(b+d)},$$

$P(K^2 \geq k)$	0.100	0.050	0.010
$k$	2.706	3.841	6.635



20.(12 分)已知函数  $f(x) = ax - \frac{\sin x}{\cos^2 x}, x \in \left(0, \frac{\pi}{2}\right)$ .

- (1) 当  $a=1$  时, 讨论  $f(x)$  的单调性;  
(2) 若  $f(x) + \sin x < 0$ , 求  $a$  的取值范围.

21.(12 分)已知直线  $x-2y+1=0$  与抛物线  $C: y^2=2px (p>0)$  交于 A,B 两点,  $|AB| = 4\sqrt{15}$ .

- (1) 求  $p$ ;  
(2) 设  $F$  为  $C$  的焦点,  $M, N$  为  $C$  上两点, 且  $\overrightarrow{FM} \cdot \overrightarrow{FN} = 0$ , 求  $\triangle MFN$  面积的最小值.



(二)选考题:共 10 分.请考生在第 22、23 题中任选一题作答.如果多做,则按所做的第一题计分.

22.[选修 4-4:坐标系与参数方程](10 分)

已知点  $P(2,1)$ , 直线  $l: \begin{cases} x = 2 + t\cos\alpha \\ y = 1 + t\sin\alpha \end{cases}$  ( $t$  为参数),  $\alpha$  为  $l$  的倾斜角,  $l$

与  $x$  轴正半轴、 $y$  轴正半轴分别交于点  $A, B$ , 且  $|PA| \cdot |PB| = 4$ .

(1)求  $\alpha$ ;

(2)以坐标原点为极点,  $x$  轴正半轴为极轴建立极坐标系, 求  $l$  的极坐标方程.

23.[选修 4-5:不等式选讲](10 分)

设  $a > 0$ , 函数  $f(x) = 2|x - a| - a$ .

(1)求不等式  $f(x) < x$  的解集;

(2)若曲线  $y = f(x)$  与  $x$  轴所围成的图形的面积为 2, 求  $a$ .

